









Arbeitsblatt 3 – Winkelmessen mit Pacmans

gestaltet von Jessica Kellner

Aufgabe: Miss die Größe der Pacmans und die Größe ihrer Mäuler ab und notiere ihre Größen in Grad rechts daneben.

<p>Es waren einmal Vier kleine Geister. Die haben Pacman immer gejagt. Eines Tages haben sie an ihm herangeschleicht. Aber Pacman sah sie und lief weg.</p>  <p style="text-align: right;">1</p>	<p>Sie jagten ihn, aber Pacman war schneller als die kleinen Geister. Er suchte nach eine Powerpille um sie zu essen. wenn er die isst dan hat er Zehn sekunden Zeit die kleinen Gester zu Fressen.</p>  <p style="text-align: right;">2</p>	<p>Größe Pacman 1: _____° Maulgröße Pacman 1: _____° Größe Pacman 2: _____° Maulgröße Pacman 2: _____°</p>
<p>Oh nein!!! Pacman hat eine Powerpille gefunden. Jetzt wird er die kleinen Geister fressen.</p>  <p style="text-align: right;">3</p>	<p>Oh nein!!! Jetzt Jagt Pacman die Geister. 10.....9.....8.....7.....6.....</p>  <p style="text-align: right;">4</p>	<p>Größe Pacman 3: _____° Maulgröße Pacman 3: _____° Größe Pacman 4: _____° Maulgröße Pacman 4: _____°</p>
<p>Oh nein er hat gleich den Kleinen Geist auf gegessen. ..5.....4.....3.....2.....</p>  <p style="text-align: right;">5</p>	<p>Ah!!!! Er hat den kleinen Geist im Mund. ...1.....</p>  <p style="text-align: right;">6</p>	<p>Größe Pacman 5: _____° Maulgröße Pacman 5: _____° Größe Pacman 6: _____° Maulgröße Pacman 6: _____°</p>
<p>...0..... Was ist los??? Pacman löst sich auf. Achso!! in der letzten Sekunde war Pacmans Zeit um!! Jetzt gibt es niwieder Pacman.</p>  <p style="text-align: right;">7</p>	<p>Die kleinen Geister Feierten und freuten sich. Jetzt brauchen sie sich niwieder sorgen wegen Pacman machen!!!</p>  <p style="text-align: right;">8</p>	